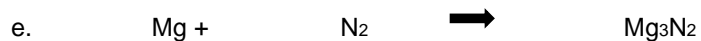
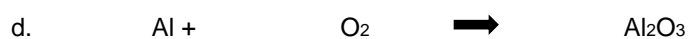
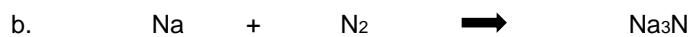
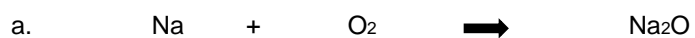


Travail 2,35 Balancez et type de réaction

Identifiez le type de réaction chimique dans chaque section. Balancez ensuite les réactions.

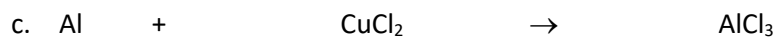

1. Elles sont tous des réactions de _____




2. Elles sont tous des réactions de _____



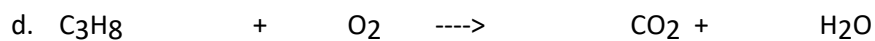
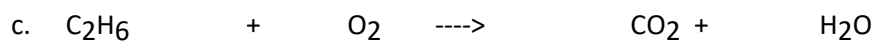
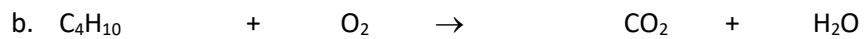
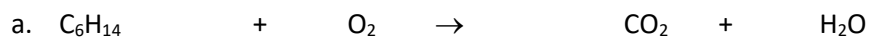
3. Elles sont tous des réactions de _____



4. Elles sont tous des réactions de _____



5. Elles sont tous des réactions de _____



6. Les réactions suivantes ne tombent pas dans une des catégories fixes.

